



الاسم:

الصف:

التاريخ: / /

درس : القسمة على منزلتين وثلاث منازل

السؤال الأول: أضع دائرة حول رمز الإجابة الصحيحة فيما يأتي .:

1- أجد ناتج $6000 \div 100 = \underline{\hspace{2cm}}$ ؟

- (أ) 6 (ب) 600000 (ج) 600 (د) 60

2. أجد ناتج $950 \div 25 = \underline{\hspace{2cm}}$ ؟

- (أ) 42 (ب) 38 (ج) 40 (د) 23750

3. في عملية القسمة $(16 \div 162)$ يكون الناتج يساوي 10 والباقي = $\underline{\hspace{2cm}}$ ؟؟؟

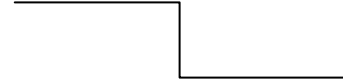
- (أ) 16 (ب) 12 (ج) 2 (د) 20

4. في عملية القسمة $15 = \underline{\hspace{2cm}} \div 75$ ، العدد المناسب وضعه بالفراغ هو :

- (أ) 5 (ب) 1125 (ج) 15 (د) 60

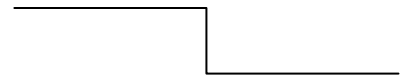
السؤال الأول: أجد ناتج القسمة وأتحقق .:

$425 \div 10 = \underline{\hspace{2cm}}$



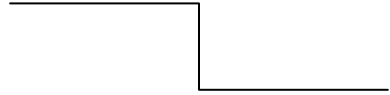
التحقق :

$648 \div 18 = \underline{\hspace{2cm}}$



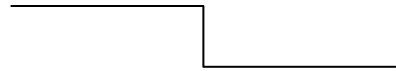
التحقق:

$$2735 \div 42 = \underline{\hspace{2cm}}$$



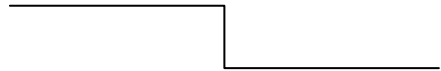
التحقق:

$$958 \div 14 = \underline{\hspace{2cm}}$$



التحقق:

$$7140 \div 105 = \underline{\hspace{2cm}} =$$



التحقق:

معلمتكم : سناء عساف

مع دعائي لكم بالتوفيق والنجاح